

2019年度

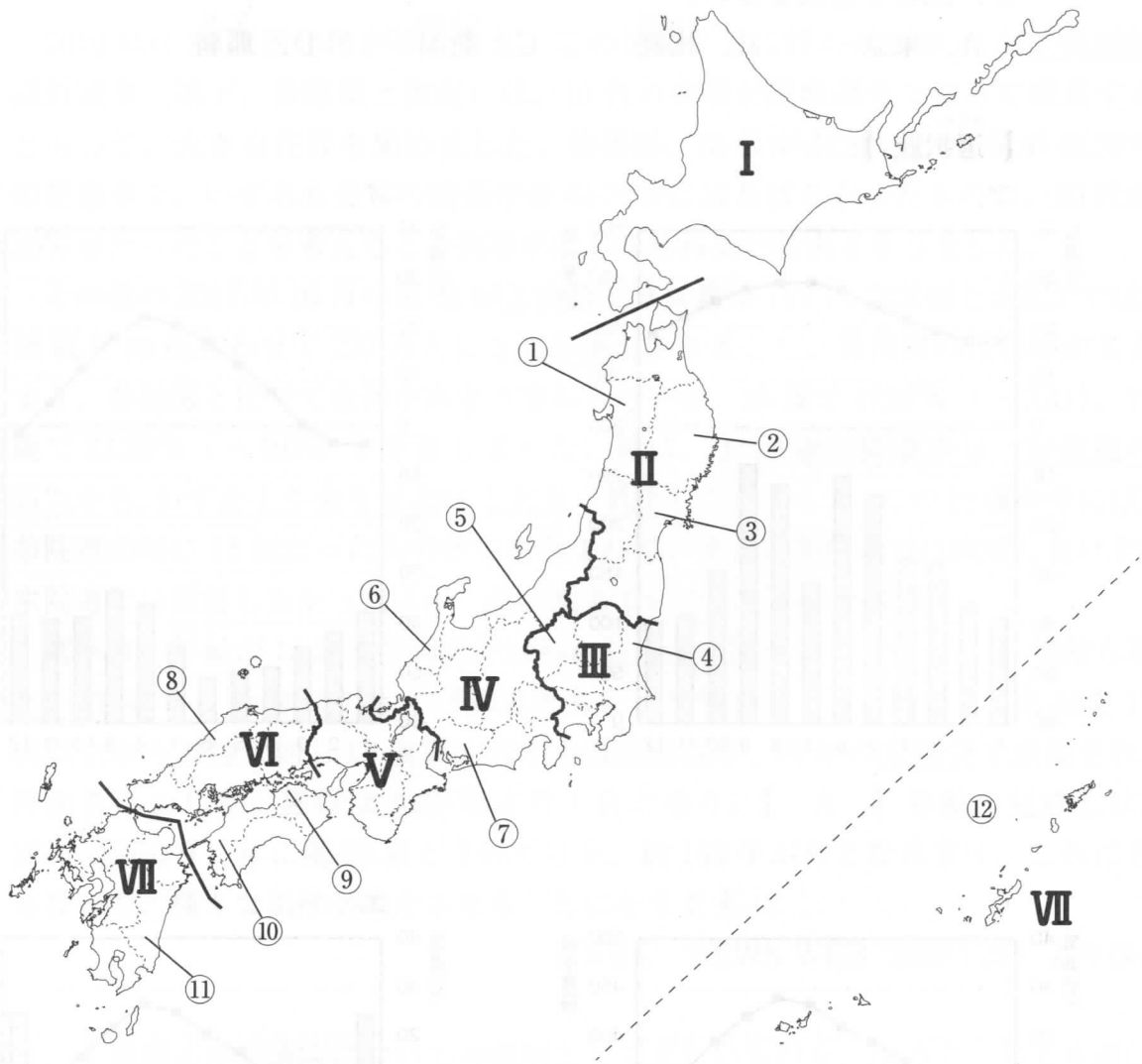
入学試験（1次A）問題

社 会

答えはすべて解答用紙に書きなさい。

横須賀学院中学校

1 次の日本地図を見て、以下の各問に答えなさい。



問1. 全国を7地方区分に分けると、地図中のI～VIIのように分類される。このなかで、さらに「北陸・中央高地・東海」の3つに分けられる中部地方はどこか、地図中のI～VIIより選び記号で答えなさい。

問2. 次のア～オの文章を読み、あてはまる都道府県の場所を地図中の①～⑫よりそれぞれ選び、その都道府県名を答えなさい。

ア. リアス海岸があり、水産業が盛んで、面積が2番目に大きい県。

イ. 面積が最も小さく、ため池を利用した米作りが行われている県。

ウ. 自動車工業がさかんで、2005年に万国博覧会の会場となった県。

エ. 加賀友禅ゆうぜんや輪島塗わじまぬりなどの伝統工芸や兼六園けんろくえんなどの史跡しせきがあることで有名な県。

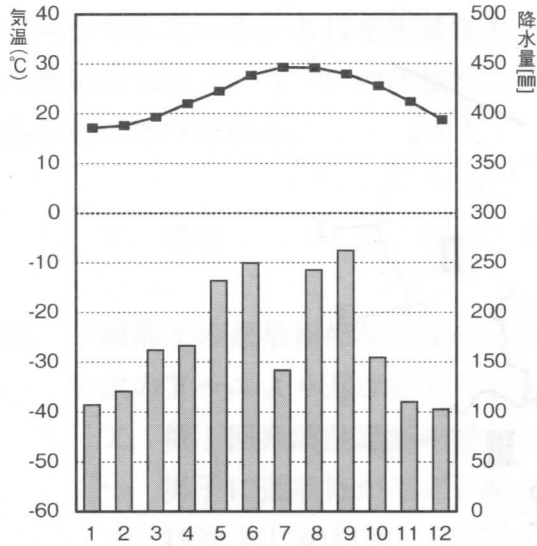
オ. 古くから製糸業とみおかが盛んで、近年、世界遺産に登録された富岡製糸場とみおかで有名な県。

問3. 次のA～Dの都市の雨温図として正しいものを、選択肢ア～エよりそれぞれ選
び、記号で答えなさい。

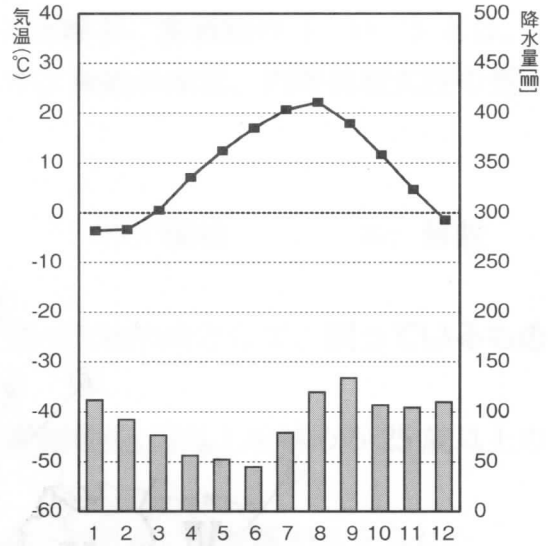
- A. 東京 B. 札幌^{さっぽろ} C. 新潟^{にいがた} D. 那覇^{なは}

【選択肢】

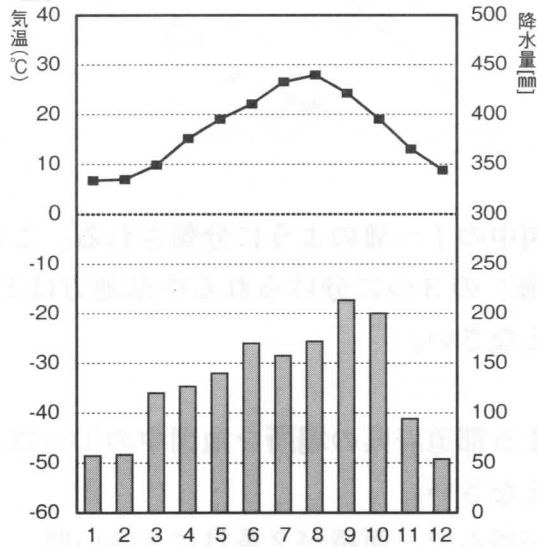
ア.



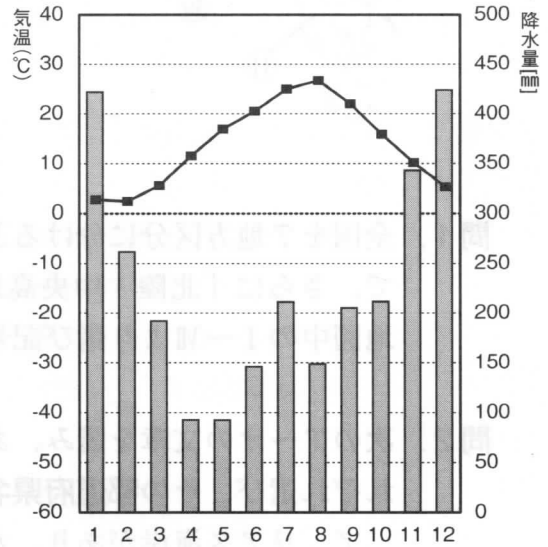
イ.



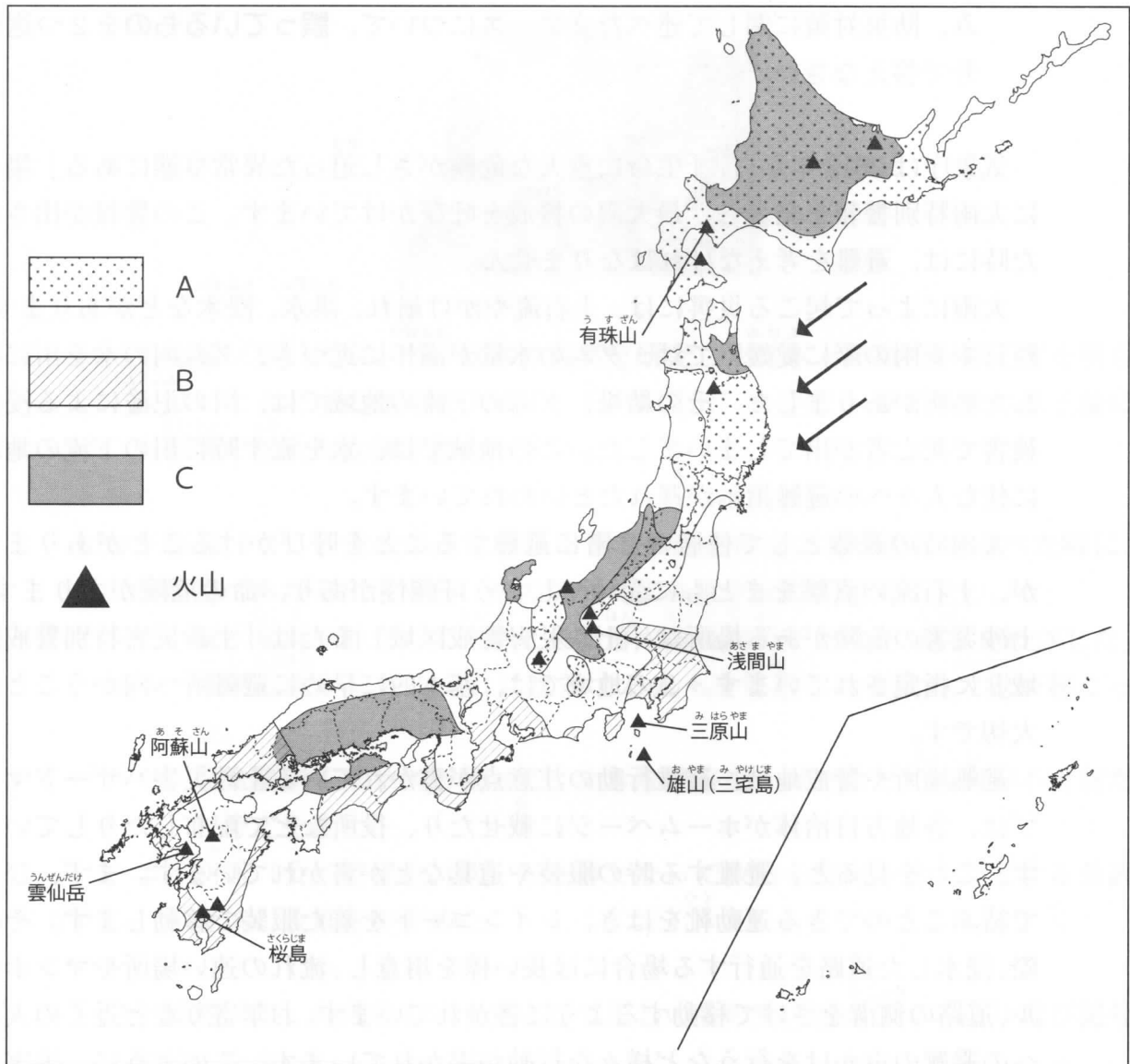
ウ.



エ.



2 次の地図は、自然災害を受けやすい地域を示している。この図を見て、以下の各問に答えなさい。



日本の自然災害

問1. 地図中のA～Cで発生する自然災害を次の語群からそれぞれ選びなさい。

【語群】 干ばつ 冷害 台風 雪害

問2. 地図中Aに災害をもたらす、夏に矢印の方向にふく風を何というか。

問3. 昨年の7月に起こった西日本豪雨被害について、警報や避難指示があったにもかかわらず犠牲者がでたことがニュースなどで報道されました。次の文章を読み、防災対策に関して述べた文ア～エについて、誤っているものを2つ選び記号で答えなさい。

気象庁は2013年から、「生命に重大な危険がさし迫った異常事態にある」場合に大雨特別警報を発表し、最大限の警戒を呼びかけています。この警報が出された時には、避難を考えなければなりません。

大雨によって起こる災害には、土石流やがけ崩れ、洪水、浸水などがあります。西日本豪雨の際に愛媛県では、ダムが満杯に近づき、ダム内の水を川に流した場所がありました。その結果、ダムの下流の地域では、川の氾濫による浸水被害で死亡者が出てしまいました。この地域では、水を流す時に川の下流の地域に住む人々への避難指示が遅れたといわれています。

大雨時の避難として住居の2階に避難することを呼びかけることがありますが、土石流の直撃をまともに受けてしまう可能性があり、命の危険があります。土砂災害の危険がある場所は「土砂災害警戒区域」または「土砂災害特別警戒区域」に指定されています。この地域では、基本的に早めに避難所へ向かうことが大切です。

避難場所や警戒地域、避難行動の注意点が書かれている土砂災害ハザードマップは、各地方自治体がホームページに載せたり、役所などで配布したりしています。これを見ると、避難する時の服装や道具などが書かれています。まず、ひもで結ぶことのできる運動靴をはき、レインコートを着た服装で移動します。その際、浸水した道路を通行する場合には長い棒を用意し、流れの速い場所やマンホール、道路の側溝をさけて移動するように書かれています。お年寄りなど近くの人々への避難の声かけを行うなど様々な行動が書かれています。このように、災害が起こった時の避難は地域の人々と協力して行うことも肝心です。

【選択肢】

- ア. ダムや堤防を建設して災害に備えることで、災害は必ず防ぐことができる。
- イ. 避難指示が出た時には、がけ下の家でも2階に移動し、雨の勢いが弱まってから避難場所へ移動する。
- ウ. 災害が起こった時の避難場所を調べ、避難方法や避難後の合流場所などを家族で話し合う。
- エ. ハザードマップを見て、自宅や学校周辺の地域が災害警戒区域に指定されているか調べておく。

3 次の地形図を見て、以下の各問に答えなさい。



2万5千分の1地形図「やた「た」より

問1. 地形図から読み取れる内容について、次のア～オの文のうち、正しければ○、間違っていれば×で答えなさい。

- ア. 吉備真備駅の周辺の地域一帯には、果樹園が広がっている。
- イ. 小田川の近くの古森の地域には、寺院が建っている。
- ウ. まきび記念館から見て、ふれあいセンターは、北東の方角に見える。
- エ. 高津池の東となりには老人ホームがある。
- オ. ふれあいセンターは山のふもとにある。

問2. 小田川は、川底の高さが周りの土地よりも高い川となっている。このような川を何というか、答えなさい。

問3. 地形図中のまきび記念館からふれあいセンターまでの直線距離は地図上で5 cm きよりである。実際の距離は何mか、その数字で答えなさい。

問4. 日本の地形図を作成している機関の名称を答えなさい。めいしょう

4 次の年表を見て、以下の各問に答えなさい。

時代・年代	出来事	時期区分
① 縄文時代 <small>じょうもん</small>	狩りや漁が行われた	A
弥生時代 <small>やよい</small>	稲作が本格的にはじめられた クニがつくられ、戦いが起こるようになった	B
古墳時代 <small>こふん</small>	大和地方に連合政権がつくられた 渡来人が大陸の技術や文化が伝えられた	C
飛鳥時代 <small>あすか</small>	天皇中心の政治のしくみがつくられ、仏教中心の文化が栄えた	D
奈良時代 <small>なら</small>	律令によって政治を整え、中国の影響をうけた文化が栄えた 710年 【 あ 】 に都をうつした	E
平安時代	794年 平安京に都をうつした 藤原氏が摂政・関白の位につき、政治の実権をにぎった 遣唐使が停止され、日本風の文化が発達した 地方で武士がおこり、源氏と平氏が勢力をもった	F
鎌倉時代 <small>かまくら</small>	【 い 】 が鎌倉に武士の政府となる幕府をつくった 1232年 武士の法律である御成敗式目がさだめられた 1333年 鎌倉幕府が滅亡した	G
室町時代	足利尊氏により室町幕府が開かれた 農村での自治が発達し、民衆による一揆が多発した 1467年 【 う 】 が起こり、戦乱の世になった	H
安土・桃山時代 <small>あづち ももやま</small>	織田信長が室町幕府を再興した 1590年 【 え 】 が全国を統一した	I
江戸時代 <small>えど</small>	1603年 徳川家康が江戸に幕府を開いた 幕府政治の立て直しが行われた 1854年 アメリカと【 お 】 を結び、開国した 1867年 大政奉還がなされた	J
明治時代	1868年 ②明治に改元した 1889年 大日本帝国憲法が制定された 1894年 日清戦争が起こった	K
③ 大正時代	1910年 韓国併合を行った 1914年 第一次世界大戦が起こった 1923年 関東大震災が発生した	L
昭和時代	1939年 第二次世界大戦が起こった 1945年 【 か 】 を受諾し、終戦をむかえた 1964年 東京オリンピックが開催された 1972年 沖縄が返還された 中国との国交が正常化した	M

平成時代	1990年	東西ドイツ統一	N
	1992年	EU（ヨーロッパ連合）の発足	
	2001年	アメリカで同時多発テロ事件がおこった	
	2008年	世界金融危機 <small>きんゆう</small> がおこった	
	2011年	東日本大震災がおこった	

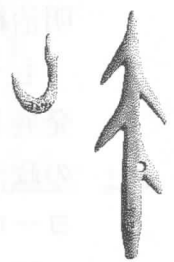

問1. 年表の空欄【あ】～【か】にあてはまる語句を次の語群からそれぞれ選びなさい。

【語群】

ポーツマス条約 豊臣秀吉ひでよし 日米和親条約 平清盛へいじょう 平城京
 応仁の乱 平安京 承久の乱 源頼朝みなもとのよりとも
 日米修好通商条約 ポツダム宣言


問2. 下線部①の時代に使われていた道具のうちあてはまらないものを、次のア～エより選び記号で答えなさい。

ア. イ. ウ. エ.



問3. 次の資料ア～エと関わりの深い時代を年表の時期区分A～Nよりそれぞれ選び、記号で答えなさい。

ア. イ.



ウ. エ.



問4. 次のア～エの出来事は、年表の時期区分A～Nのどの時期の出来事か、それぞれ記号で答えなさい。

- ア. 厩戸王（聖徳太子）が役人の心得などを定めた十七条の憲法を定めた。
- イ. 倭寇の取りしまりと貿易を求めた明との間で勘合貿易を始めた。
- ウ. ロシア革命の広がりをおさえるため、日本軍がシベリアに出兵した。
- エ. 邪馬台国の卑弥呼が中国へ使いをおくり、皇帝から金印と百枚の銅鏡を授かった。

問5. 下線部②に関連して、今から150年前に行われた政治や社会の変革である明治維新について、次の文章を読み、各問に答えなさい。

江戸時代は、武家、百姓、町人などのさまざまな身分にわかれ、身分ごとに仕事や住む場所が決められていた。幕末の内乱をむかえるまで200年あまり平和な状態がつづき、そうしたなかで都市が発展し、商業と交通も発展した。全国をまとめる幕府が、海外との交流をきびしく管理するなかで経済的な発展がみられ、その一方で、都市において文化が生まれ、しだいに農村へ広がった。(A) 人々の読み書きの能力が、きわめて高い社会が生まれていた。こうした社会の発展が、明治維新という大変革の前提にあった。

もう一つは、18世紀から19世紀にかけて、幕府や大名のもとで学問が著しく発展していたことである。(B) 多くの知識人が生まれ、日本や中国の古くからの政治や法制度、社会を支えてきた制度を研究していた。この研究の積み重ねがヨーロッパの思想や技術を受け入れやすくしたと考えられる。


19世紀における蒸気船と電信の普及は、世界にヨーロッパ文明が世界の基準となる「19世紀グローバル化」注ともいふべき現象を引き起こした。このような世界情勢に対応するために、日本の国内において行われた様々な変革が明治維新であった。

1868年、(C) 大政奉還が行われた後、西郷隆盛、大久保利通、木戸孝允、公家の三条実美、岩倉具視らを中心とした新政府は政府の基本方針となる(D) 五箇条の誓文を示して、(E) さまざまな政治の改革を進めていった。政治の目標は、ヨーロッパの国々に追いつき、日本を近代国家にすることであった。

「羽賀祥二『新発見 日本の歴史 近代②』」より一部加筆

注：グローバル化…社会的あるいは経済的な関係が旧来の国家や地域を越えて地球規模に拡大して様々な変化を引き起こす現象のこと。

- (1) 下線部 (A) について、江戸時代に人々に読み・書き・そろばんを教えた次の資料のような場所を答えなさい。



- (2) 下線部 (B) について、日本の古典を研究して日本人の精神や考え方を明らかにしようとする国学を大成し、『古事記伝』を完成させて幕末の尊王論にも影響を与えた人物を答えなさい。

- (3) 下線部 (C) の大政奉還にいたるまでの出来事を古い順番にならべた時に、**3番目**にあたる出来事を、次のア～エより選び記号で答えなさい。


- ア. 坂本竜馬の仲立ちで薩摩と長州藩が薩長同盟をむすび、倒幕をめざした。
イ. 井伊直弼が自分の方針に反対する人々を処罰した安政の大獄が起こった。
ウ. 薩摩藩がイギリスと戦って、大きな被害をうけたことで攘夷が不可能だと考えを変えた。
エ. 朝廷(公)と幕府(武)が一体となって政治を安定させようとする公武合体の政策をすすめた。

- (4) 下線部 (D) の内容を示す文として正しいものを、次のア～エより選び記号で答えなさい。


- ア. 政治は広く会議を開き、みんなの意見を聞いてきめる。
イ. 下田・函館の両港は、アメリカ船のまきと水、食料、石炭、不足しているものを日本で調達することにかぎって入港することを許可する。
ウ. 今後、ポルトガル船の来航を禁止する。
エ. 一揆を行ったり、無理なうったえをしたり、村からにげ出してはならない。

(5) 下線部 (E) について、次の資料Ⅰ～Ⅲと関係の深い出来事として正しいものを、次のア～エよりそれぞれ選び、記号で答えなさい。

資料Ⅰ



資料Ⅱ



資料Ⅲ



- ア. 大名に土地と人民を返還させ、知藩事をおいた。
- イ. 満 20 歳以上の男子が軍事訓練を義務付けられた制度。各地で反対一揆がおこった。
- ウ. 地主の権利を認め、地価の 3% を税として現金でおさめさせた。
- エ. 全国に小学校を設けて 6 才以上の男女に義務教育を受けさせることにした。

(6) 問 5 の冒頭の文章を参考にしながら、明治維新が短期間で行われた理由を 1 つ、30 字程度で述べなさい。

問 6. 下線部③の時代には、衆議院議員から内閣総理大臣が選ばれ本格的な政党内閣による政治が行われた。「平民宰相」と呼ばれ、本格的な政党内閣をつくった内閣総理大臣の名前を答えなさい。

5 次の文章を読み、以下の各問に答えなさい。

2016年に18歳選挙権が導入され、この年の7月に行われた第24回①参議院議員選挙（以下、参院選と表記）は、10代の若者が国政選挙で初めて投票するとあって、大きな注目を集めました。結果は、18歳が51.28%、19歳が42.30%の投票率で、いずれも全体の投票率の54.70%には及ばなかったものの、20代が30%台だったことを考えると、投票率はおおむね良い結果となりました。

その後の2017年10月の第48回②衆議院議員選挙（以下、衆院選と表記）では、18歳と19歳合わせて237万人に③選挙権がありました。世代別の投票率がまとめ、参院選と比べて全体があまり変わらない中、18歳で47.87%（-3.41）、19歳で33.25%（-9.05）と下落しました。特に、④19歳の投票率は、参院選の51%から、わずか1年余りで33%と大きく低下していました。この19歳の中には、参院選の時に18歳だった人の多くが含まれています。参院選では投票したけど、衆院選では投票しなかった人が、高い割合でいたことがわかります。

選挙権の年齢が18歳まで引き下げられたことに関連して、【A】年齢も現在の20歳から18歳に引き下げるとともに、女性が【B】できる年齢を16歳以上から男性と同じ18歳以上にする改正民法が、今年の⑤国会で議論され、可決されました。施行は2022年4月1日となり、【A】年齢の見直しは、1876（明治9）年に満20歳とされて以来、約140年ぶりとなります。これにもなって、様々な法律が改正されることとなります。

（『NHK NEWS WEB 2018.1.29』より抜粋）

問1. 下線部①の参議院についての説明として正しいものを、次のア～エより選び記号で答えなさい。

- ア. 参議院の議員数は衆議院よりも多い。
- イ. 参議院の被選挙権は30歳以上である。
- ウ. 参議院の議員の任期は衆議院よりも短い。
- エ. 参議院は、衆議院よりも先に予算案の審議ができる。

問2. 下線部②の衆議院には、参議院よりも強い権限が与えられているが、それについて述べた次の文の空欄（あ）～（う）にあてはまる語句を次のア～エの中から1つずつ選び、記号で答えなさい。

衆議院議員の任期は4年で、被選挙権は25歳以上である。衆議院は（あ）があるが、参議院にはないため、衆議院は参議院より強く国民の意思を反映すると見なされている。これを衆議院の（い）と呼ぶ。衆議院の（い）とは、内閣に対する（う）の決議ができることや、条約の承認、内閣総理大臣の指名などにあげられる。

ア. 優先 イ. 信任・不信任 ウ. 優越 エ. 解散

問3. 下線部③の選挙権の移り変わりについて述べた次の文として、誤っているものを次のア～エより選び記号で答えなさい。

- ア. 第1回衆議院議員総選挙では、直接国税15円以上を納める25歳以上の男子に選挙権が与えられた。
- イ. 1928年に納税額に関係なく25歳以上の男女に選挙権が与えられた。
- ウ. 1920年に直接国税3円以上を納める25歳以上の男子に選挙権が与えられた。
- エ. 1945年に20歳以上の男女に選挙権が与えられ、完全な普通選挙となった。

問4. 下線部④について、次の資料を参考にしながら、19歳の選挙の投票率が低下した原因と、投票率を上げるためにはどうすればいいか、あなたの考えを書きなさい。

資料

(投票に行った人の意見)

「ふだんから駅前によく見かけるなど、^{がんば}頑張っている候補者がいて応援したかった。」

「初めて投票したときさまざまな政策を見比べたことで、地域や日本の課題が身近になった。」

「家族みんなが投票に行くから、自分も行くことが普通。」

「親がよく政治のニュースを見ていて、それについて^{いっしょ}一緒に話すので関心がある。」

(投票に行かなかった人の意見)

「参院選の時は、高校3年生で、母と一緒に初めて投票に行きました。高校では全クラスにポスターが^は貼られて、授業でも『選挙に行こう』という話をよく耳にしました。友達との話にも選挙が話題にのぼることが多かったが、大学生になって一人暮らしをするようになると『選挙に行こう』と言われることもなかったし、政党や候補者のことを^{くわ}詳しく知らないので、わからないまま投票するのもどうかと思います、投票に行かなかった。」

「19歳になって、親のもとからはなれた場所で就職をして、毎日いそがしかったので、選挙に行く足が遠のいてしまった。」

(『NHK NEWS WEB 2018.1.29』より抜粋、補足)

問5. 文中の空欄【 A 】・【 B 】にあてはまる語句を次のア～エよりそれぞれ選び、記号で答えなさい。

ア. 成人 イ. 喫煙 ウ. 飲酒 エ. 結婚

問6. 下線部⑤の国会について、**国会の仕事ではないもの**を、次のア～エより2つ選び記号で答えなさい。

ア. 外国と条約を結ぶ イ. 国民^{しんさ}審査を行う
ウ. 国政を調査する エ. 裁判官を裁判する

問7. 1947年に日本国憲法が施行されてから70年を^こ越えました。この憲法の三原則にあてはまらないものを、次のア～エより選び記号で答えなさい。

ア. 基本的人権の尊重 イ. 平和主義
ウ. 国民主権 エ. 教育をうける権利