

2021年度

入学試験（1次A）問題

社 会

答えはすべて解答用紙に書きなさい。

横須賀学院中学校

1 としお君とみのる君の会話を読んで、以下の問いに答えなさい。

としお君「やあ、みのる君。夏休みはどうだった？」

みのる君「やあ、としお君。7月は雨が多くてなかなか①梅雨が明けなかったけど、8月になってからは、ものすごい暑さだったね。」

としお君「^{しずおかけん}静岡県の（ 1 ）では国内最高気温の41.1度を記録したよね。（2020年8月17日）」

みのる君「そうだね。気候のことで言ったら、暑さ以外にも、局地的な大雨とか、様々なニュースがあったね。」

としお君「最近の日本の気候はどうなってしまったんだろうね・・・」

みのる君「あまりの暑さで、外に出なかったから宿題がはかどったよ。社会の宿題で地域のことを調べるのが楽しかったよ。」

としお君「そうだね。僕は②横須賀市のことを調べたよ。僕は自動車が好きだから工業のことを調べてみたよ。」

みのる君「僕は隣の③三浦市を調べたよ。三浦市は④漁業や⑤農業が盛んだから、そのことを調べてみたよ。野菜も魚も大好物だからね。」

としお君「横須賀では北部で⑥工業地が形成されており、横須賀港からは自動車^{よこはま}が輸出されているよ。横須賀から^{かわさき}横浜、^{わん}東京都の^{けい}東京湾沿岸は⑦京浜工業地帯の中心地となっているんだ。」

みのる君「自動車工場の見学に行ったことがあるよ。楽しかったなあ。」

としお君「三浦市の漁業や農業はどうなの？僕も魚は大好きだよ。」

みのる君「三浦市の^{みさき}三崎漁港は⑧遠洋漁業の拠点で、日本有数の^あマグロ水揚げ港なんだ。しかし、⑨漁業の就業人口は減少しているみたい。農業は三浦ダイコンをはじめ、キャベツやスイカを生産し、^{けん}首都圏に供給しているんだ。」

としお君「そうなんだ。僕がよく食べるマグロも三崎で水揚げされたのかな。」

みのる君「そうかもしれないね。この宿題をやってみて、もっと日本のことを知りたいと思ったよ。」

としお君「そうだね。今後も気になったことは調べていくことにするよ。」

問1. 会話中の空欄（1）に当てはまる都市名を選び、記号で答えなさい。

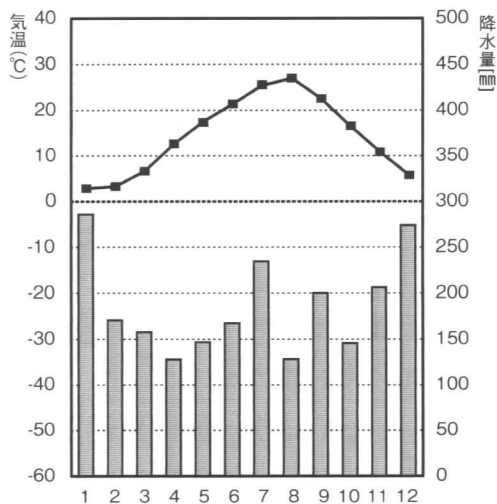
ア. ^{たじみ}多治見 イ. ^{いせさき}伊勢崎 ウ. ^{はままつ}浜松 エ. ^{くまがや}熊谷

問2. 下線部①について、日本で梅雨前線を停滞させる気団を2つ選び、記号で答えなさい。

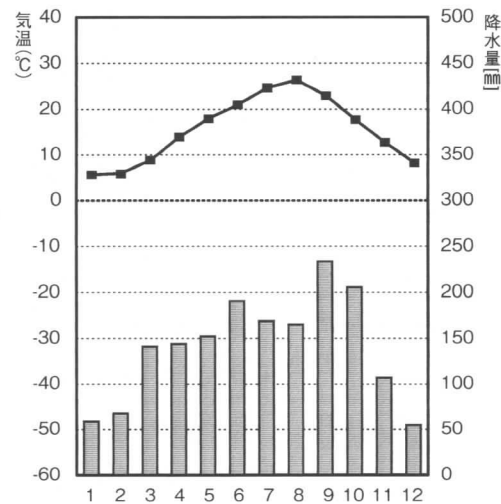
- ア. 赤道気団 イ. オホーツク気団
 ウ. シベリア気団 エ. 小笠原気団

問3. 下線部②について、横須賀市の雨温図に最も近い雨温図はどれか選び、記号で答えなさい。

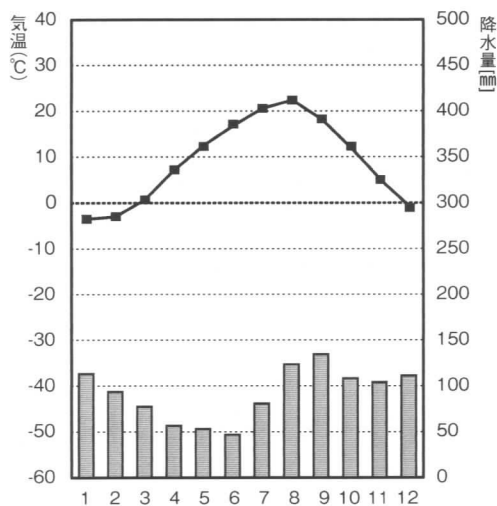
ア.



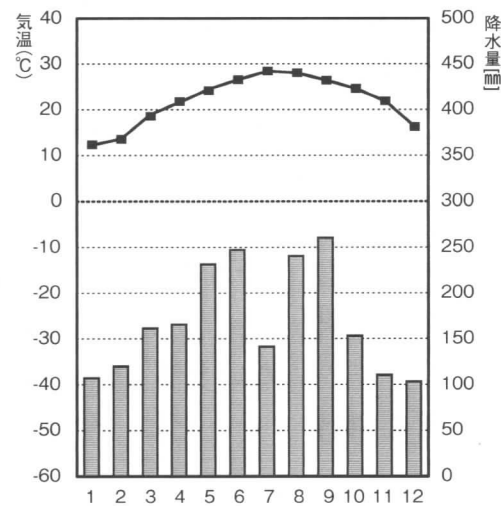
イ.



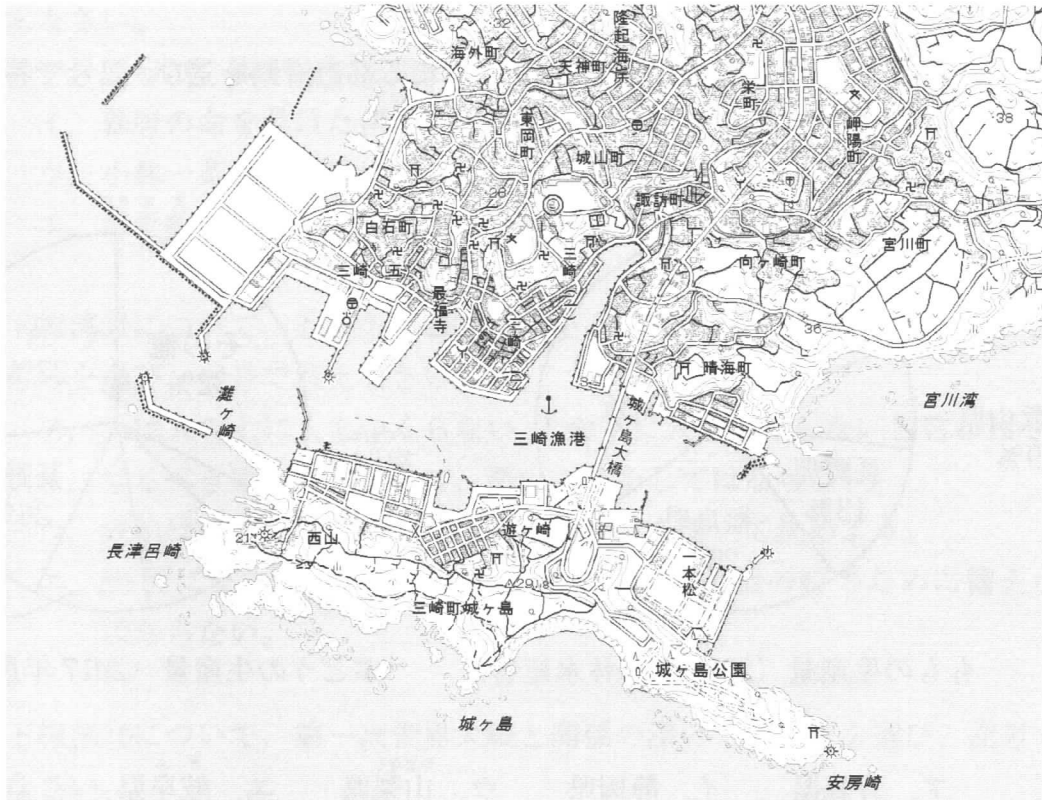
ウ.



エ.



問4. 下線部③について、三浦市南部の地形図をみて、以下の問いに答えなさい。



(2万5千分の1 国土地理院地形図)

(1) 地形図中の地図記号 Υ は何を示しているか選び、記号で答えなさい。

- ア. 裁判所 イ. 税務署 ウ. 警察署 エ. 消防署

(2) 地形図中の長津呂崎^{ながとろ}から安房崎^{あわ}までは8 cm であるが、実際の距離^{きょり}はどれくらいか選び、記号で答えなさい。

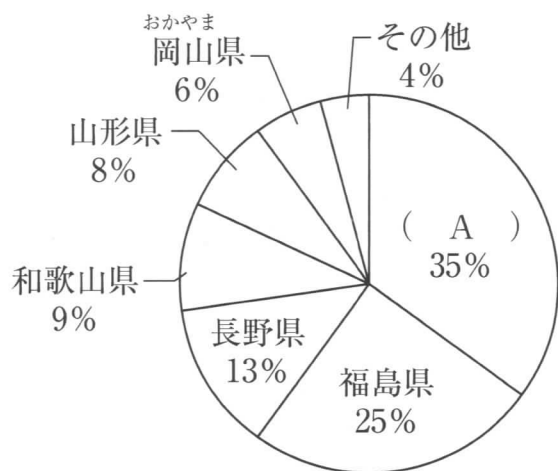
- ア. 1 km イ. 2 km ウ. 4 km エ. 8 km

問5. 下線部④について、日本の漁業に関する説明のうち正しいものを選び、記号で答えなさい。

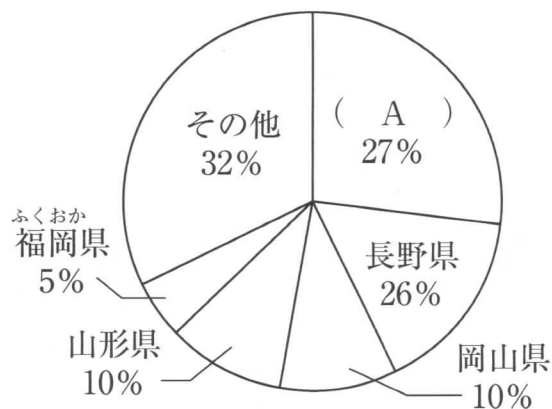
- ア. 日本は、まぐろ、えび、さけ、かになどの輸入額が多く、日本の水産物の輸入額は世界第1位である。
- イ. 日本海漁場は、親潮と黒潮が流れ込む日本海を中心とした漁場で、さんま・たら・さけ・いか・まぐろがとれる。
- ウ. 三陸海岸や広島湾などではほたて貝の養殖^{ようしよく}が、三重県の英虞湾^{あご}や愛媛県^{えひめ}の宇和海などではのりの養殖がさかんに行われている。
- エ. 水産資源には限りはないので、とれるだけとって、人々に供給する必要がある。

問6. 下線部⑤について、日本の農業に関して、以下の問いに答えなさい。

(1) 下のグラフを見て空欄 A に当てはまる都道府県を選び、記号で答えなさい。



ももの生産量 (2017年農林水産省)



ぶどうの生産量 (2017年農林水産省)

- ア. 青森県 イ. 静岡県 ウ. ^{やまなし}山梨県 エ. ^{ぎふ}岐阜県

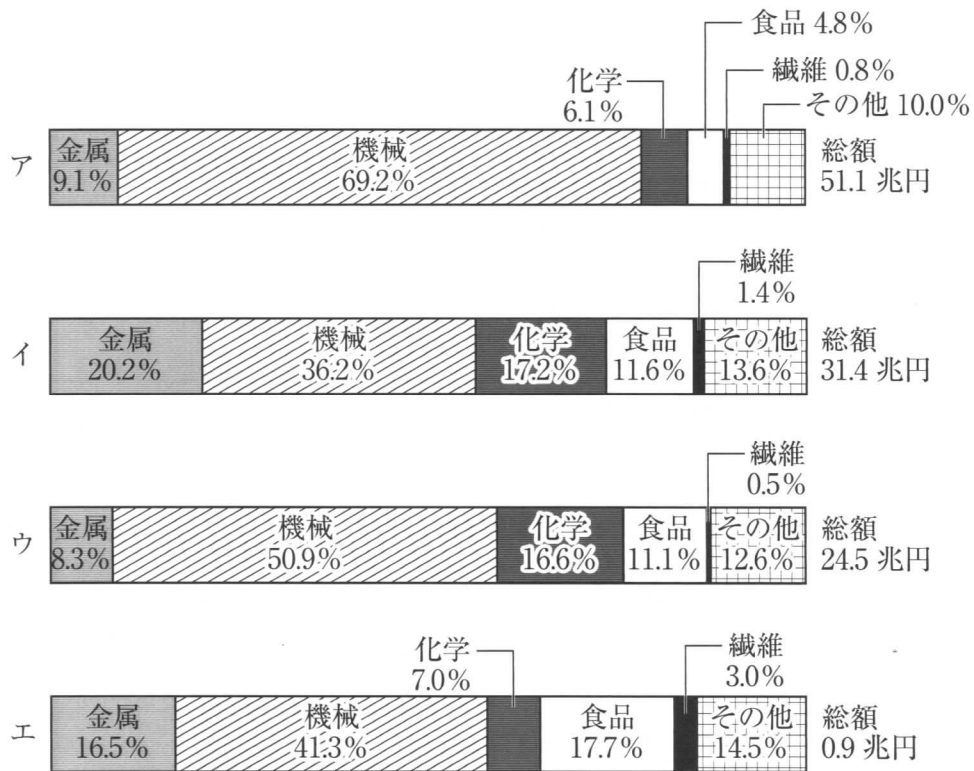
(2) 日本の農業に関する説明のうち正しいものを選び、記号で答えなさい。

- ア. 日本は耕地面積はせまいが、面積あたりの生産量が多い。
 イ. 現在の販売農家は、農業を主とする主業農家の割合が高い。
 ウ. 設備費や燃料費が高いということもあり、農業の機械化が進んでいない。
 エ. 大豆の生産量は多く、ほとんど輸入に頼^{たよ}っていない。

問7. 下線部⑥について、日本の工業に関する説明のうち正しいものを選び、記号で答えなさい。

- ア. 日本の伝統工業は、近年では若い職人が増え、原材料も豊富に作られているため生産量も多く、使う人も多くなっている。
 イ. 1970年代中ごろから、日本は高度経済成長が始まり、機械工業や鉄鋼業、石油化学工業などの重化学工業などを中心に工業が発展した。
 ウ. 日本の工業は、中小工場が多いことが特色で、中小工場が約99%を占め、大工場は1%にも満たない。
 エ. 日本の自動車は故障が少なく、価格のわりに高性能なことが世界で受け入れられ、日本は現在世界第1位の自動車生産国である。

問8. 下線部⑦について、下のグラフは日本の工業地帯（北九州工業地帯、^{はんしん}阪神工業地帯、中京工業地帯、京浜工業地帯）の工業生産額の割合である。このうち、京浜工業地帯の生産額を示したグラフを選び、記号で答えなさい。



(2016年日本国勢図会)

問9. 下線部⑧について、1970年代前半以降、遠洋漁業は衰退したが、その理由を説明しなさい。

問10. 下線部⑨について、漁業人口を増やすために、あなたならどのような取り組みをしますか、自由に書きなさい。

2 下の年表を見て、以下の問いに答えなさい。

時代	できごと	記号
縄文 <small>じょうもん</small>	約1万2000年前 ①縄文時代が始まる	A
弥生 <small>やよい</small>	57年 ②倭の奴国の王が後漢に使いを送る 239年 邪馬台国の卑弥呼が魏に使いを送る	B
古墳 <small>こふん</small>	478年 倭王武が中国の南朝に使いを送る 538(552)年 ③仏教が正式に伝来する	C
飛鳥	593年 ④聖徳太子が摂政となる 645年 大化の改新が始まる	D
奈良 <small>なら</small>	710年 都が平城京に移される 752年 ⑤東大寺の大仏ができる	E
平安	794年 ⑥都が平安京に移される 1167年 平清盛が太政大臣となる	F
鎌倉 <small>かまくら</small>	1192年 (1) が征夷大將軍になる 1232年 御成敗式目が制定される	G
室町	1338年 足利尊氏が室町幕府を開く 1404年 ⑦勘合貿易が始まる	H
安土桃山	1582年 本能寺の変が起こる 1590年 ⑧豊臣秀吉が全国を統一する	I
江戸 <small>えど</small>	1603年 (2) が江戸幕府を開く 1825年 ⑨異国船打払令が出される	J
明治	1868年 ⑩五か条のご誓文が示される 1894年 日清戦争が始まる	K
大正	1914年 ⑪第一次世界大戦に参戦 1923年 関東大震災が発生する	L
昭和	1931年 満州事変が起こる 1945年 ⑫第二次世界大戦が終わる	M
平成	1998年 ⑬冬季オリンピックが開催される 2011年 東日本大震災が発生する	N
令和	2019年～⑭中国で確認された新型コロナウイルス感染症が流行する	O

問1. 年表中の空欄1～2に当てはまる人名を答えなさい。

問2. 次のできごとは年表中 A～O のどの時代に起こったことか、記号で答えなさい。

承久の乱が起こり、後に京都に六波羅探題が置かれた。

問3. 下線部①について、縄文時代の説明として、正しいものを選び、記号で答えなさい。

- ア. 高温で焼いたかたくてうすい、赤かっ色の土器が、食べ物のにたきや盛りつけ、貯蔵用に使われた。
- イ. 中国や朝鮮半島から青銅器や鉄器などの金属器が伝わり、武器や祭器として使われるようになった。
- ウ. 米作りが伝わり、収穫した米は住まいのたて穴住居の近くに建てた高床倉庫に保管した。
- エ. 表面をみがいて仕上げた石器や、動物の骨や角でつくられたつりばりやもりなどの骨角器が使われた。

問4. 下線部②について、このできごとと関係の深い写真を選び記号で答えなさい。



ア



イ



ウ



エ

問5. 下線部③について、日本に仏教を伝えたと言われる国を選び、記号で答えなさい。

- ア. 高句麗
- イ. 百済
- ウ. 新羅
- エ. 伽耶

問6. 下線部④について、聖徳太子（厩戸王）の行ったことの説明として、間違っているものを選び記号で答えなさい。

- ア. 仏教を広めてその精神を政治に生かそうとし、法隆寺などを建てた。
- イ. 朝廷の役人の位を12に分け、冠の色で表すようにした。
- ウ. 今まで皇族や豪族が持っていた土地・人民を国のものにした。
- エ. 天皇中心の国家をつくろうとし、役人の守るべき心得を十七条にまとめた。

問7. 下線部⑤について、この頃の文化の説明として、正しいものを選び、記号で答えなさい。

- ア. 『古事記』や『日本書紀』など神話や歴史に関する書物がまとめられた。
- イ. 阿弥陀仏にすがれば極楽浄土へ往生できるという浄土教の信仰が広まった。
- ウ. 「ひらがな」や「かたかな」がつくられ、かな文字による文学作品がつけられた。
- エ. 紀貫之らが『古今和歌集』を編集し、すぐれた歌人が多く出た。


問8. 下線部⑥について、平安時代のできごとの説明として、正しいものを選び、記号で答えなさい。

- ア. 空海は比叡山に延暦寺を建て、天台宗を広めた。
- イ. 平将門が瀬戸内海で、藤原純友が関東で朝廷に対して反乱を起こした。
- ウ. 藤原氏が政治の実権を握り、道長・頼通親子の時に最盛期をむかえた。
- エ. 平治の乱で、平氏を破った源氏が政治の実権を握った。

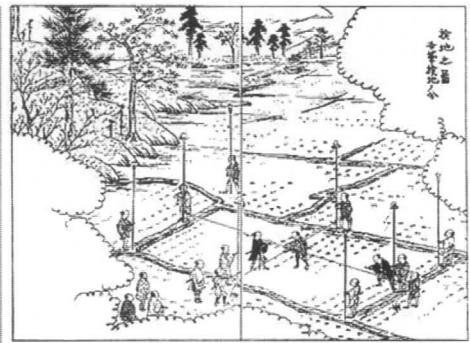
問9. 下線部⑦について、この貿易が開始された時の中国の王朝を選び、記号で答えなさい。

- ア. 宋
- イ. 明
- ウ. 元
- エ. 唐


問10. 下線部⑧について、豊臣秀吉と関係の深い絵を選び、記号で答えなさい。




ア



イ



ウ



エ

問11. 下線部⑨について、この頃の文化の説明として、正しいものを2つ選び、記号で答えなさい。

- ア. こっけい本が人気を集め、井原西鶴が『東海道中膝栗毛』を書いた。
- イ. 幕府の命を受けた伊能忠敬は、正確な日本地図の作成にあたった。
- ウ. 小林一茶は人間愛にあふれた句を多く残し、『奥の細道』を書いた。
- エ. 浮世絵が流行し、歌川広重や葛飾北斎の風景画が人気を集めた。

問12. 下線部⑩について、五か条のご誓文の条文を簡単に訳したものとして、正しいものを選び、記号で答えなさい。

- ア. 天は人の上に人をつくらない、人の下に人をつくらないと言われている。
- イ. 守るべき道を正しくして、悪いことをしてはならない。
- ウ. 政治は広く会議を開き、みんなの意見を聞いて決めよう。
- エ. 20歳になった男子すべてが軍隊に入り、危機の時のために備えなければならぬ。

問13. 下線部⑪について、第一次世界大戦と関係の深いできごとを選び、記号で答えなさい。

- ア. ドイツがポーランドに侵攻すると、ポーランドと同盟を結んでいたイギリスとフランスがドイツに宣戦した。
- イ. アメリカ大統領セオドア＝ルーズベルトの仲立ちによる講和会議が、ポーツマスで開かれた。
- ウ. オーストリアの皇太子夫妻がセルビア人青年に暗殺される事件が起こった。
- エ. 日本はドイツの勢いを見て、ドイツ・イタリアと日独伊三国同盟を結んだ。

問14. 下線部⑫について、第二次世界大戦後に起こった次のア～エのできごとを、起こった順番に並べたときに3番目にくるものを選び、記号で答えなさい。

- ア. 石油危機
- イ. 韓国との国交回復
- ウ. 朝鮮戦争
- エ. 国際連合に加盟

問15. 下線部⑬について、1998年に冬季オリンピックが開催された都道府県はどこかを選び、記号で答えなさい。

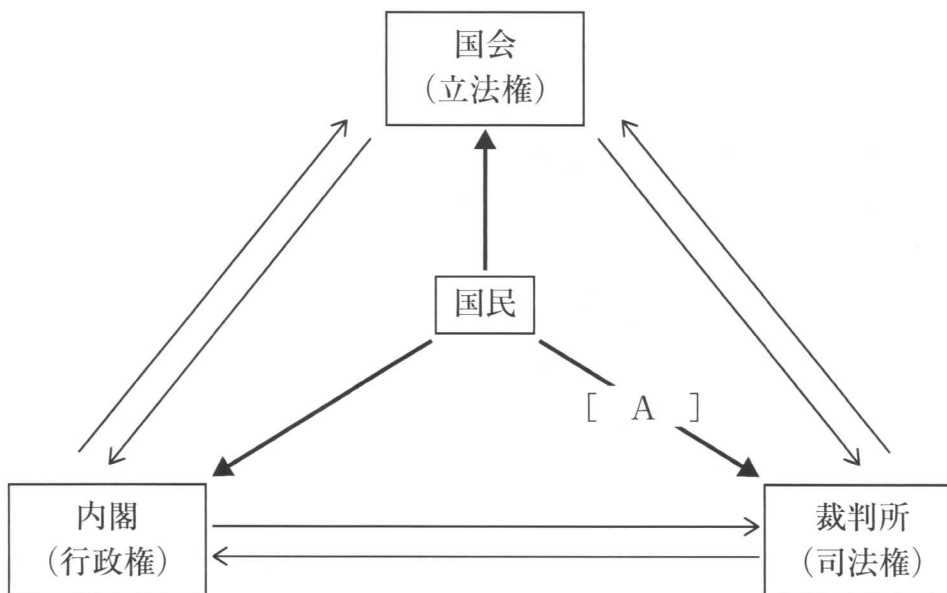
- ア. 長野県
- イ. 新潟県
- ウ. 北海道
- エ. 山形県

問16. 下線部⑭について、新型コロナウイルスが最初に確認された中国の都市はどこかを選び、記号で答えなさい。

- ア. 北京
- イ. 上海
- ウ. 重慶
- エ. 武漢

3 政治に関する以下の問いに答えなさい。

問1. 下の三権分立のしくみの図を見て、以下の問いに答えなさい。



(1) 図中の [A] に当てはまる語句を選び、記号で答えなさい。

ア. 違憲審査^{いけんしんさ} イ. 国勢調査 ウ. 国民審査 エ. 国民投票

(2) 国会の仕事として間違っているものを選び、記号で答えなさい。

ア. 最高裁判所長官を指名する イ. 条約の承認をする
ウ. 裁判官を裁判する エ. 予算を決める

(3) 内閣に関する説明のうち正しいものを選び、記号で答えなさい。

ア. 内閣総理大臣は国の行政の最高責任者で、国会議員の中から国会が任命する。
イ. 国務大臣は国会議員の中から国会で指名され、全員が国会議員から選ばれる。
ウ. 衆議院で内閣不信任案が可決されれば、内閣はただちに総辞職しなければならない。
エ. 天皇の国事行為^{こうい}について、助言と承認をあたえる。

(4) 裁判に関する説明のうち正しいものを選び、記号で答えなさい。

- ア. 裁判の結果に不服のある人は上級の裁判所に^{じょうそ}上訴することができる。第一審から第二審への上訴を上告、第二審から第三審への上訴を控訴という。
- イ. 被疑者や被告人は、自分の不利益になることであっても、答えなければならない。黙っていると罪が重くなることがある。
- ウ. 裁判官は自己の良心にしたがい、だれからの圧力も受けることなく、独立して裁判を行い、憲法および法律にのみ^{こうそく}拘束される。
- エ. 貸したお金を返してもらえないなど、個人や^{きぎょう}企業の財産や権利、義務についての争いを裁判所が解決する裁判を^{けいじ}刑事裁判という。

(5) 裁判員制度に関する説明のうち正しいものを選び、記号で答えなさい。

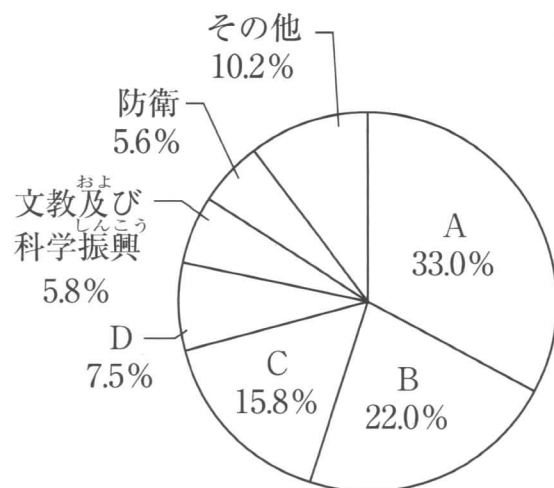
- ア. 裁判に参加するので、法律の専門的な知識が必要になる。
- イ. 裁判員として知った情報は他人に話してもよい。
- ウ. 原則として18才以上の人が6人選ばれる。
- エ. 国民のいろいろな考えを裁判にいかすことができるようになった。

問2. 地方政治では、行政から一定の権限を^{あた}与えられた^{かんさつ}行政監察官が、行政機関に対する苦情の処理をする制度がある。この行政監察官のことを何というか選び、記号で答えなさい。

- ア. オンブズマン イ. アナリスト
- ウ. マスメディア エ. チェアマン

問3. 下のグラフは2019年度の一般会計予算の歳出の内訳を示したグラフである。歳出の最も大きい割合を占めているAに当てはまるものを選び、記号で答えなさい。

- ア. 地方財政費
- イ. 社会保障関係費
- ウ. 国債費
- エ. 公共事業



(財務省ホームページより)

問4. 日本国憲法第25条には「健康で文化的な最低限度の生活を営む権利」について書いているが、この権利を何というか選び、記号で答えなさい。

ア. 平等権 イ. 自由権 ウ. 生存権 エ. 請求権

問5. 下の表は平成の衆議院議員総選挙の年代別の投票率を示している。この表を見て現在の選挙の問題点は何かを答えなさい。また、その問題をどのように解決すればよいか、あなたの考えを書きなさい。

年 (西暦)	平2 (1990)	平5 (1993)	平8 (1996)	平12 (2000)	平15 (2003)	平17 (2005)	平21 (2009)	平24 (2013)	平26 (2015)	平29 (2018)
回	39	40	41	42	43	44	45	46	47	48
10代										40.49
20代	57.76	47.46	36.42	38.35	35.62	46.20	49.45	37.89	32.58	33.85
30代	75.97	68.46	57.49	56.82	50.72	59.79	63.87	50.10	42.09	44.75
40代	81.44	74.48	65.46	68.13	64.72	71.94	72.63	59.38	49.98	53.52
50代	84.85	79.34	70.61	71.98	70.01	77.86	79.69	68.02	60.07	63.32
60代	87.21	83.38	77.25	79.23	77.89	83.08	84.15	74.93	68.28	72.04
70代以上	73.21	71.61	66.88	69.28	67.78	69.48	71.06	63.30	59.46	60.94
全体	73.31	67.26	59.65	62.49	59.86	67.51	69.28	59.32	52.66	53.68

(%)